

Prénom :


Date :

ASU1K

B10



A. soutenue.



Trouve et écris les numéros qui manquent.

Exemple

Séquence de 1 à 7		
6	1	5
3	2	7

Numéros manquants :

4

1

Séquence de 1 à 7		
6	7	1
4	3	2

Numéros manquants : _____

2

Séquence de 1 à 7		
6	7	5
4	1	2


Numéros manquants : _____

TE 1 :

TE 2 :



A. soutenue.



Trouve et écris les numéros qui manquent.

1

Séquence de 1 à 13			
2	7	11	10
1	8	12	13
3	4	9	

Numéros manquants : _____

2

Séquence de 1 à 13			
11	3	5	1
4	7	9	10
2	12	6	

Numéros manquants : _____

Prénom :


Date :

ASU1K

M2



A. soutenue.



Trouve et écris les numéros qui manquent.

1

Séquence de 1 à 20			
1	16	13	7
10	18	4	20
3	15	17	2
9	5	6	8

Numéros manquants : _____

2

Séquence de 1 à 20			
3	15	6	10
11	4	8	16
9	19	12	18
5	13	2	20

Numéros manquants : _____

TE 1 :

TE 2 :

Prénom :


Date :

ASU1K

M10



A. soutenue.



Trouve et écris les numéros qui manquent.

1

Séquence de 1 à 30				
3	12	15	8	2
24	16	9	1	6
7	30	22	5	28
21	19	4	14	23
18	29	13	25	17

Numéros manquants : _____

2

Séquence de 1 à 30				
6	24	12	26	5
17	27	20	3	30
15	19	28	14	2
23	13	11	18	25
22	8	29	7	9


Numéros manquants : _____

TE 1 :

TE 2 :



A. soutenue.



Trouve et écris les numéros qui manquent.

1

Séquence de 1 à 40						
32	16	12	40	11	26	13
30	25	34	21	33	5	36
7	14	8	35	28	22	17
29	15	19	24	6	10	20
39	38	23	9	18	4	1
37	31	2				

Numéros manquants : _____

2

Séquence de 1 à 40						
40	32	5	30	6	21	10
35	20	24	29	33	25	4
23	31	18	16	13	28	37
15	39	27	8	34	17	26
14	12	19	7	9	2	1
22	11	3				

Numéros manquants : _____